



のこりはいくつ


しきとこたえをかきましょう(1)

ねん

くみ なまえ

かえるはなんびきのこりましたか。しきを かいて こたえましょう。


はじめに 3びき。



2ひき とんでいくと

しき $3 - 2 = 1$ こたえ 1 びき

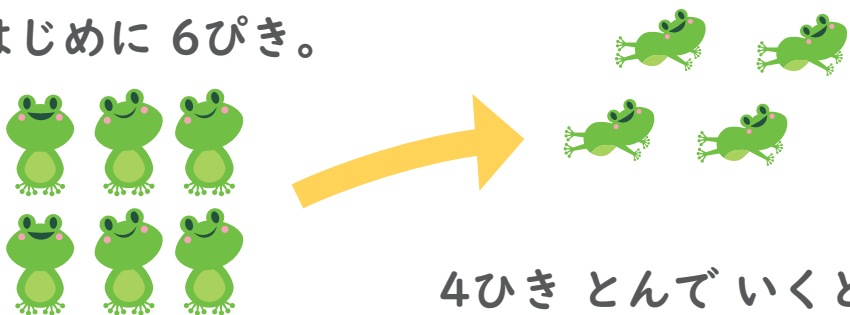
はじめに 7ひき。



3びき とんでいくと

しき $7 - 3 = 4$ こたえ 4 ひき

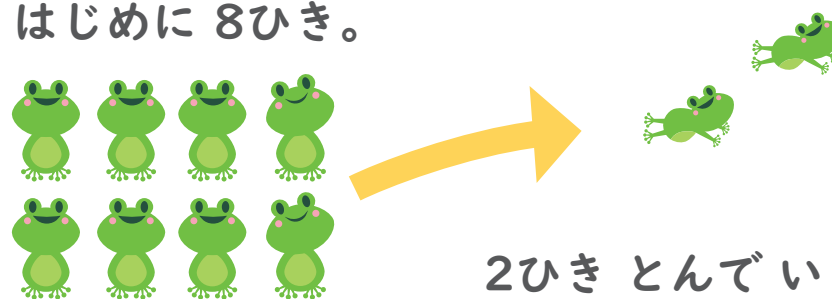
はじめに 6ひき。



4ひき とんでいくと

しき $6 - 4 = 2$ こたえ 2 ひき

はじめに 8ひき。



2ひき とんでいくと

しき $8 - 2 = 6$ こたえ 6 びき